











LONGUEUR	Séquence 3	Séance 1
CP	TRACE ÉCRITE	

	Quelle est la longueur de chaque objet ?	
		
		La craie mesure .....
		Le petit cube mesure .....
		La gomme mesure .....
		La paille jaune mesure .....
		La paille rouge mesure .....
	<p>L'étalon-gommette mesure un centimètre. La règle est graduée en centimètres.</p> <p>Pour mesurer :</p> <ul style="list-style-type: none"> <li>• Je mets la règle le long de l'objet.</li> <li>• Je fais correspondre le 0 avec l'extrémité de l'objet.</li> <li>• Je regarde à quelle graduation arrive l'autre extrémité de l'objet.</li> <li>• Je lis le résultat de la mesure.</li> </ul> <p>Pour donner la réponse de la mesure :</p> <ul style="list-style-type: none"> <li>• J'écris le nombre et cm.</li> </ul>	